

Начиная работу можно с любого задания, однако, мы рекомендуем выполнять задания в том порядке, в котором они даны. Если какое-то задание вызывает у вас затруднение, пропустите его и приступайте к выполнению остальных заданий. Если вы уверены, что сможете решить задание, возвращайтесь к нему в конце работы. Если у вас останется время, задание можно будет вернуть, если у вас останется время.

Общее время выполнения работы - 135 минут

Максимальная сумма баллов - 68

Во время выполнения заданий не допускается использование атласов и других источников информации.

Географический тип

Задание 1. (9 баллов)

Вспомните природные рекорды России. На контурной карте Евразии подпишите названия географических объектов-рекордсменов России:

самой длинной горной системы

самой высокой горной системы (можно обозначить цифрой и расшифровать)

самой длинной реки, бассейн которой полностью находится в России

самой многоводной реки

крупнейшего полуострова

самого большого и глубокого моря у берегов России

самого высокого действующего вулкана

крупнейшего острова

самого глубокого озера

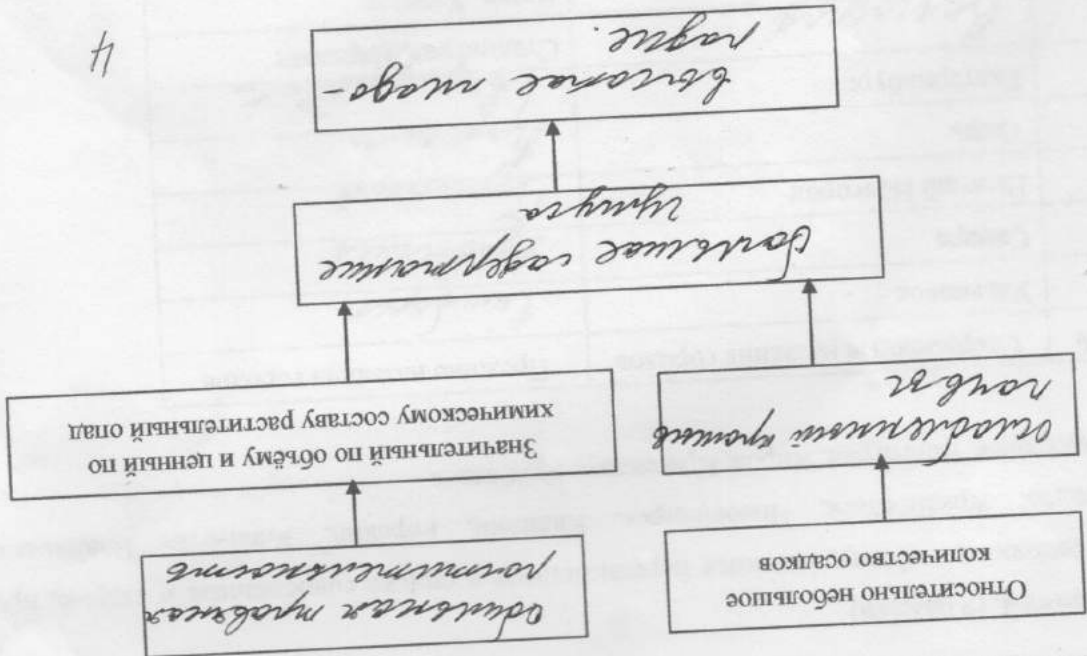
Кука, Махатма Ганди, кимоно, Акира Куросава

1) Сари, хинди, Тадж-Махал, птица киви, Рабиндранат Тагор, рупия, Хоккайдо, «Махабхарата», гора

Определите страны.

1. В каждом из двух списков найдите и выпишите по 7 понятий (это элементы духовной и материальной культуры, имена, представители органического мира и т.п.), относящихся к одной стране. Определите страны.

Задание 3. (16 баллов)

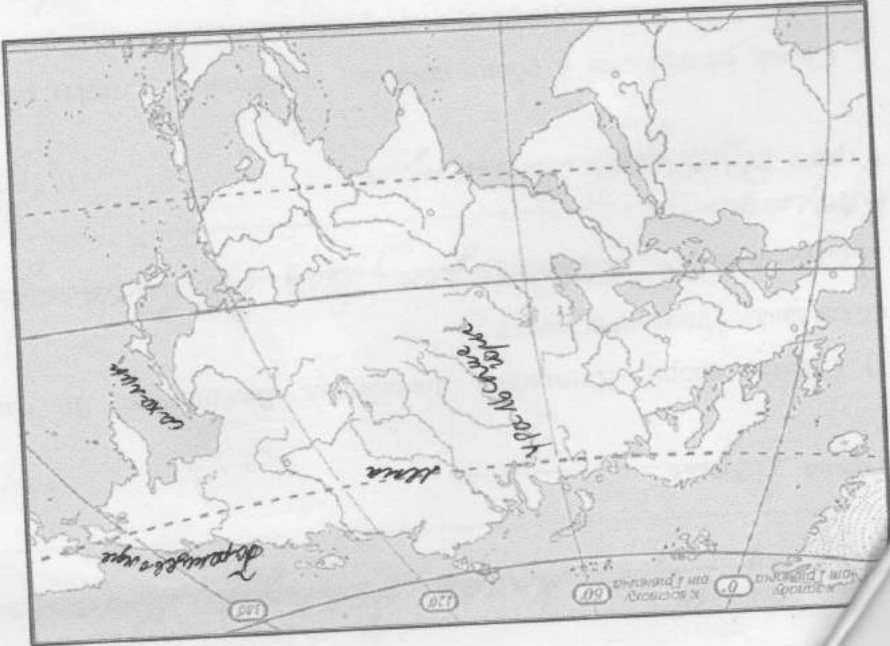


4

Дополните схему, объясняющую причины высокого естественного плодородия чернозёмов. В рамках разместите следующие словосочетания: большое содержание гумуса; высокое плодородие, ослабленный промыв почва; обильная травянистая растительность.

Задание 2. (4 балла)

1/5



№	Современные названия городов	Прежние названия городов
1	Ульяновск	Симбирск
2	Самара	Куйбышев
3	Нижний Новгород	Горький
4	Тверь	Кашин
5	Екатеринбург	Свердловск
6		Сталинград, Царицын
7		Вятка, Хлынов
8		Орджоникидзе, Дзуджикау
9		Екатеринбург
10		Новониколаевск
11		Верхнеудинск
12		Новые Холмогоры

65

1) Дополните таблицу, соотнося перечисленные в списке современные и старые, прежние названия городов: Архангельск, Новосибирск, Калинин, Горький, Улан-Удэ, Владикавказ, Симбирск, Свердловск, Волгоград, Киров, Краснодар, Куйбышев.

Задание 4. (9 баллов)

2. Слова, оставшиеся в обоих списках, объедините, а затем разделите на две группы и укажите названия островных государств, с которыми эти понятия связаны.

- 1) ~~Канада, Новая Зеландия, Кувейт, Индия, Япония, Австралия, США, Китай~~
- 2) ~~Маврикий, Суринам, Восточный Тимор, Вануату, Новая Гвинея, Самоа, Япония~~

2) Суоми, маори, Хельсинки, Лапландия, Беллингтон, Ян Сибелиус, Иена, саамы, гаттерия,


- «Калевала», Инариярви, хокку
 Калевала, Лапландия, Беллингтон, Ян Сибелиус, Иена, саамы, гаттерия, «Калевала»
 Страна ~~Япония~~ Япония

(48)

(48)

Страна Япония

Напишите современные названия городов (из числа включённых в таблицу), в которых установлены эти памятники.



1. Памятник

Афанасию Никитину

2. Памятник 3. Монумент

Петру («Ролина-мать зовёт!»)

- 1.
- 2.
- 3.

Ильба
 драматика
 Вавилон

Задание 5. (14 баллов)

Заполните таблицу «Основные отрасли хозяйства Поволжья», используя предложенные элементы ответа (в разных ячейках они могут повторяться).

Основные отрасли сельского хозяйства Поволжья

Обособности		Части Поволжского региона	
Юг	Юг	Юг	Юг
Число дней с температурой более +10°C	120-150	150-170	170-190
Типы почв	серые лесные, каштановые, черноземы	черноземы, каштановые, каштановые	бурые лесные, каштановые, каштановые
Основные сельскохозяйственные культуры	пшеница, рис, гречиха	пшеница, гречиха, кукуруза, картофель	пшеница, гречиха, кукуруза, картофель
Направление животноводства	скотоводство	скотоводство	скотоводство

25

--	--	--	--

Элементы ответа:

Число дней с температурой более +10°C: 170-190, 120-150, 150-170

Типы почв: чернозёмы, бурые полупустынные, оподзоленные чернозёмы, серые лесные, каштановые

Основные сельскохозяйственные культуры: пшеница, яровая пшеница, льня, сахарная свёкла, рис и овощи (на поливных землях), пшеница, картофель, подсолнечник, гречиха

Направления животноводства: мясо-молочное скотоводство, грубошерстное овцеводство, тонкорунное овцеводство, полутонкорунное овцеводство, коневодство, свиноводство

Тестовый тип

На каждый вопрос даны четыре варианта ответов.

Выберите только один правильный и внесите его в матрицу ответов.

Максимально 16 баллов, по 1 баллу за каждый правильный ответ.

1. Выберите город с наибольшей численностью населения:

- а) Саратов
- б) Самара
- в) Сыктывкар
- г) Салехард

2. Из какой зерновой культуры производят пшеничную крупу?

- а) пшеница
- б) просо
- в) ячмень
- г) просо

3. Выберите верное утверждение:

- а) Российский участок Вислинской косы называют Балтийской косой.
- б) Балтийская коса длиннее Куршской косы.
- в) На Балтийской косе нет дюн.
- г) Российский участок Вислинской косы называют Куршской косой.

4. Выберите верное утверждение о реке Неман:

- а) Река Шешупе является притоком Немана.
- б) Неман впадает в Калининградский залив.
- в) Исток Немана находится в Калининградской области.
- г) На Немане расположен город Черняховск.

5. Какой город Калининградской области расположен севернее?

- а) Гусев
- б) Черняховск
- в) Славск
- г) Нестеров

6. В Южной Америке расположено государство:

- а) Боливия
- б) Ботсвана
- в) Ливия
- г) ЮАР

7. Муссонные дожди часто вызывают наводнения на реке:

- а) Енисей
- б) Хуанхэ
- в) Дунай
- г) Тигр

105

11	12	13	14	15	16
a	2	2	д	б	a
+	+	-	+	+	+

1	2	3	4	5	6	7	8	9	10
д	д	2	a	б	a	б	б	д	2
+	-	-	+	+	+	-	+	-	-

Матрица для записи ответов

- а) Владимир
 б) Рязань
 в) Смоленск
 г) Вологда
16. Какой город традиционно входит в туристический маршрут «Золотое кольцо России»?
 г) Одной из главных статей экспорта Бразилии является кофе.
 б) Столица является крупнейшим по численности населения городом страны.
 в) Большая часть электроэнергии в стране производится на ГЭС.
 а) Государственным языком в стране является португальский.
15. Какое из утверждений о Бразилии является неверным?
 а) Сургутская
 б) Курская
 в) Красноярская
 г) Иркутская
14. Выберите атомную электростанцию.
 а) Республика Калмыкия
 б) Республика Коми
 в) Красноярский край
 г) Красноярская
13. В каком регионе густота железных дорог наибольшая?
 а) Якуты
 б) Чуваши
 в) Башкиры
 г) Буряты
12. Выберите народ, представители которого исповедуют буддизм.
 а) избыточное
 б) недостаточное
 в) достаточное
 г) скудное
11. Если годовое количество осадков составляет 700 мм, а испаряемость – 300 мм, каким является увлажнение?
 а) Приморский край
 б) Магаданская область
 в) Амурская область
 г) Хабаровский край
10. На территории какого субъекта РФ находится Уссурийский заповедник?
 в) широколиственные леса
 г) сухая степь
 б) тайга
9. Для какой природной зоны характерны каштановые почвы?
 а) Победа
 б) Казбек
 в) Народная
 г) Белуха
- Как называется высшая точка Уральских гор?

Школьный этап. II класс

Начиная работу можно с любого задания, однако, мы рекомендуем выполнять задания в том порядке, в котором они даны. Если какое-то задание вызывает у вас затруднение, пропустите его и приступайте к пропущенным заданиям можно будет вернуться, если у вас останется время.

Общее время выполнения работы - 135 минут

Максимальная сумма баллов - 62

Во время выполнения задания не допускается использование атласов и других источников информации.

Теоретический тип

Задание 1. (3 балла)

Название какого острова, в переводе означающее «Зелёная земля» или «Зелёная страна», противоречит его природным особенностям? Зронтангва

Почему на его юго-западном побережье климат не так суров, как на остальной части, и летом растёт зелёная трава? Восток

Задание 2. (13 баллов)

Вспомните природные рекорды России. На контурной карте Евразии подпишите названия географических объектов-рекордменов России:

самой длинной горной системы (можно обозначить цифрой и расшифровать) самой длинной горной системы самой многоводной реки крупнейшего полуострова крупнейшего острова самого большого и глубокого моря у берегов России

самого высокого действующего вулкана

крупнейшего острова

самого глубокого озера

12	Восточный	Новые Холмосторы
----	-----------	------------------

Шифр Р-11-1

335

№	Современные названия городов	Прежние названия городов
1	Ульяновск	Симбирск
2	Самара	Саратов
3	Нижний Новгород	Нижегород
4	Тверь	Калининград
5	Екатеринбург	Свердловск
6	Венгерово	Венгерово
7	Краснодар	Краснодар
8	Мин-Сур	Орджоникидзе, Дзуджикау
9	Краснодар	Екатеринодар
10	Курск	Новониколаевск
11	Курск	Верхнедвинск
12	Вятка	Новые Холмгоры

1) Дополните таблицу, соотнося перечисленные в списке современные и старые, прежние названия городов: Архангельск, Новосибирск, Калинин, Горький, Улан-Удэ, Владикавказ, Симбирск, Свердловск, Волгоград, Киров, Краснодар, Куйбышев.

Задание 3. (9 баллов)

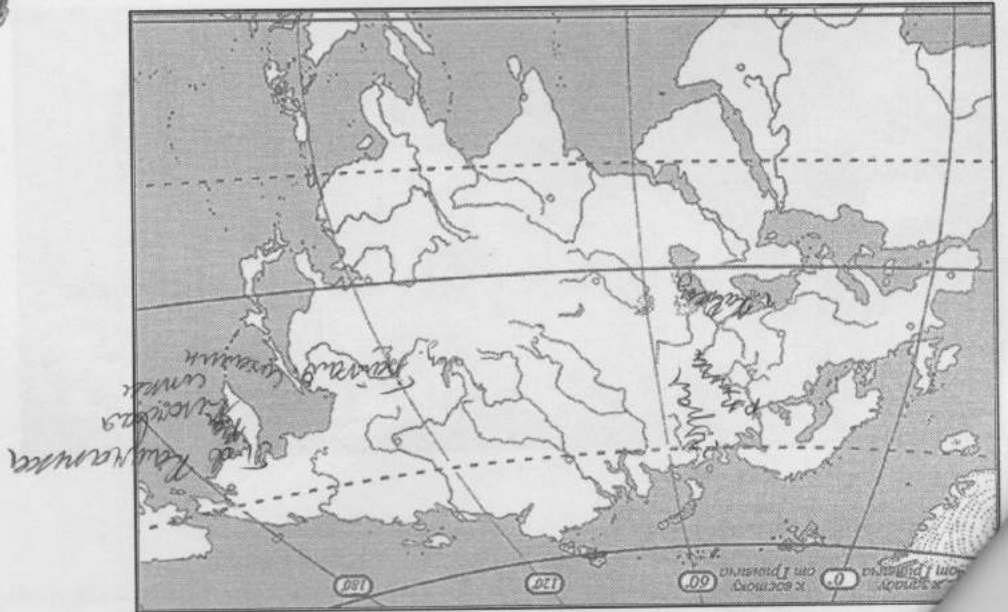
На территории какого субъекта РФ находится самый высокий действующий вулкан? *51-ый Камчатка*

На территории какого субъекта РФ находится крупнейший полуостров?


Камчатка, Крым, Чукotka

Какие субъекты Российской Федерации омывает самое глубокое озеро?

8/5



напишите современные названия городов (из числа включённых в таблицу), в которых установлены эти памятники.



1. Памятник

Афанасию Никитину

1. Москва

2. Памятник

Петру I

3. Моумент

«Ролина-мать зовёт!»

Задание 4. (16 баллов)

1. В каждом из двух списков найдите и выпишите по 7 понятий (это элементы духовной и материальной культуры, имена, представители опричного мира и т.п.), относящихся к одной стране. Определите страны.

1) Сари, хинди, Тарж-Махал, птица киви, Рабиндранат Тагор, руфия, Хоккайдо, «Махабхарата», гора Кука, Махатма Ганди, синтоизм, Акира Курогава

Страна Япония
 «Сари», «Махабхарата», (сери Тарж), руфия, Махатма Ганди.

2) Суоми, маори, Хельсинки, Лапландия, Велингтон, Ян Сибелиус, иена, саамы, гаттерия, «Катевала», Инарияви, танка

Страна Финляндия
 «Катевала», «Катевала», Инарияви, танка.

2. Слова, оставшиеся в обоих списках, объедините, а затем разделите на две группы и укажите названия островных государств, с которыми эти понятия связаны.

1) Достоевский, Шиндлер, Крайс Вулфсбах, иена Япония
 Островное государство Япония

Основное государство Шриланка, Индия, Китай, Австралия, Бразилия, Россия, Канада, США, Индонезия, Малайзия, Филиппины, Таиланд, Япония, Южная Африка, Южная Америка

Задание 5. (5 баллов)

Дополните таблицу, записав в соответствующую графу страны из списка, размещённого ниже.

Страны-лидеры по площади лесов (2015 г.)

Место	Страна	Площадь лесов, млн га	Лесистость, % от территории страны	Доля от площади лесов мира, %
1	Россия	815	47	20
2	Канада	494	58	12
3	США	347	35	9
4	Китай	310	32	8
5	Бразилия	208	22	5
6	Индия	153	65	4
7	Южная Америка	125	16	3
8	Южная Африка	91	50	2
9	Южная Европа	74	58	2
10	Южная Азия	71	22	2

Страны: Индия, США, Канада, Россия, Индонезия, Бразилия, Австралия, Китай, Демократическая Республика Конго, Перу

Тестовый тип

На каждый вопрос даны четыре варианта ответов. Выберите только один правильный и внесите его в матрицу ответов. Максимально 16 баллов, по 1 баллу за каждый правильный ответ.

- Какая страна является монархией?
 - а) Пакистан
 - б) Молдавия
 - в) Нидерланды
 - г) Финляндия
- Выберите город с наибольшей численностью населения:
 - а) Саратов
 - б) Самара
 - в) Сыктывкар
 - г) Салехард
- Выберите верное утверждение:
 - а) Российский участок Вислинской косы называется Куршской косой.
 - б) Балтийская коса длиннее Куршской косы.
 - в) На Балтийской косе нет дюн.
 - г) Российский участок Вислинской косы называется Куршской косой.

- Выберите верное утверждение о реке Неман:
- а) Река Шешупе является притоком Немана.
 б) Неман впадает в Калининградский залив.
 в) Исток Немана находится в Калининградской области.
 г) На Немане расположен город Черняховск.
5. Какой город Калининградской области расположен севернее?
 а) Нестеров б) Черняховск в) Гусев г) Славск
6. В Южной Америке расположено государство:
 а) Боливия б) Ботсвана в) Ливия г) ЮАР
7. Муссонные дожди часто вызывают наводнения на реке:
 а) Енисей б) Хуанхэ в) Лунай г) Тигр
8. Как называется высшая точка Уральских гор?
 а) Победа б) Казбек в) Народная г) Белуха
9. Для какой природной зоны характерны каштановые почвы?
 а) лесостепь б) тайга в) широколиственные леса г) сухая степь
10. Какая страна носила название Золотой Берг?
 а) Бенин б) Гана в) Буркина-Фасо г) Кот-д'Ивуар
11. Если годовое количество осадков составляет 700 мм, а испаряемость – 300 мм, каким является увлажнение?
 а) избыточное б) недостаточное в) достаточное г) скудное
12. Выберите народ, представители которого исповедуют буддизм.
 а) якуты б) чуваши в) башкиры г) буряты
13. В каком регионе густота железных дорог наибольшая?
 а) Калужская область б) Республика Коми в) Республика Калмыкия г) Красноярский край
14. Выберите атомную электростанцию.
 а) Сургутская б) Курская в) Красноярская г) Иркутская
15. Какое из утверждений о Бразилии является неверным?
 а) Государственным языком в стране является португальский.
 б) Большая часть электроэнергии в стране производится на ТЭС.
 в) Столица является крупнейшим по численности населения городом страны.
 г) Одной из главных статей экспорта Бразилии является кофе.
16. В какой стране доля детей в общей численности населения наибольшая?
 а) Польша б) Канада в) Кения г) Германия

11	10	9	8	7	6	5	4	3	2	1
16	15	14	13	12	11	10	9	8	7	6

10	9	8	7	6	5	4	3	2	1
10	9	8	7	6	5	4	3	2	1

ТАБЛИЦА ДЛЯ ЗАПИСИ ОТВЕТОВ

11

Начиная работу можно с любого задания, однако, мы рекомендуем выполнять задания в том порядке, в котором они даны. Если какое-то задание вызывает у вас затруднение, пропустите его и приступайте к выполнению остальных заданий. Если вы уверены, что сможете решить задание, вернитесь к нему в конце работы.

Общее время выполнения работы - 75 минут

Максимальная сумма баллов - 62

Во время выполнения задания не допускается использование атласов и других источников информации.

Теоретический тип

Задание 1. (6 баллов)

Отдайте загадки:

1) Он и летом, и зимой –

Между небом и землей.

Хоть всю жизнь к нему иди –

Он всё время впереди!

Солнце

2) Безобидны, травоядны,

Не в полосках и не в пятнах,

Сумка есть и длинный хвост,

Плюс к тому – немалый рост.

Австралийскую жару

Очень любят ...

Кенгуру

3) Он король поляных льдин,

Черно-белый господин.

Ух, для птички он велик!

Ходит очень важно.

Самый южный материк

Засели отважно.

Антарктида

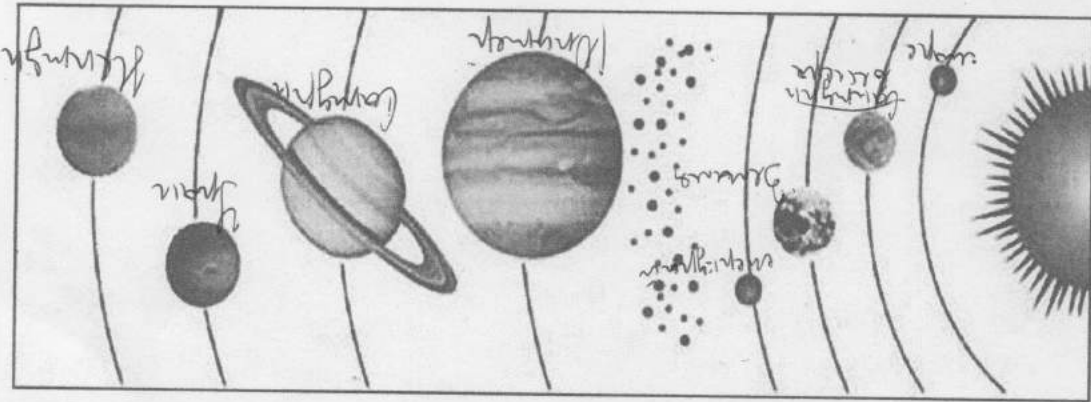
4) Подрастал, подрастал,

Был рогалям – круглым стал.

Только крут, чудо-крут,

Стаи опять рогалям вьдут.

Медведь



6

1) Подпишите на схематическом рисунке названия планет Солнечной системы.

Задание 3. (10 баллов)

Растения и животные: пихта, карликовая берёза, тушканчик, рячик, белая сова, рысь, верблюжья колючка, песчанка, песец, полярная лива, северный олень, сосна, лиственница, буйвол, ель, лемминг, соболь.

Природная зона	Растения	Животные
Тундра	берёза карликовая	белая сова, песец, северный олень
Тайга	сосна, ель	верблюд, лемминг
Пустыня	верблюжья колючка	песчанка, песец, тушканчик

12

Заполните таблицу, используя список растений и животных.

Задание 2. (17 баллов)

Тром бусы засверкали, всю траву собою заткали, А пошли искать их днём – Ищем, ищем – не найдём!

6) Все обходят это место: Здесь земля – как будто тесто, Тут осока, кочки, мхи, Нет опоры для ноги.

ему на Земле происходит смена времен года?

Кругом при смене дня сменяется место и она увеличивается вместе с тем, как мы приближаемся к полюсу.

Задание 4. (6 баллов)

1) Выберите из списка и выпишите слова (это элементы культуры, растения, животные, географические названия и т.п.), связанные с Японией и Индией:

Тадж-Махал, сакура, Токио, рупия, Хонсю, Нью-Дели, кимоно, Фудзи, Ганг, нена, хокку, сари.

Япония:

Сакура, Киото, Кио-Дэн, Дэн, нена, хокку.

Индия:

Могол-Шах-Джахан, рупия, кимоно, Фудзи, сари.

Задание 5. (7 баллов)

На контурной карте напишите названия:

-самого большого материка

-самого маленького материка

-самого большого океана

-самого маленького океана

-крупнейшего острова

-крупнейшего полуострова

Цифрой 1 обозначьте Балтийское море

1/5

1/5

- а) Северную Америку б) Австралию
- в) Антарктиду г) Южную Америку

6. Какой материк открыли позже других материков?

- г) Северный Ледовитый и Индийский
- в) Тихий и Индийский

- б) Индийский и Атлантический
- а) Тихий и Атлантический

5. Какие океаны омывают Африку?

- в) «изучение природы» г) «описание природы»
- а) «изучение Земли» б) «землеописание»

4. Что в переводе с греческого языка означает слово «география»?

- а) степи б) тайги в) тундры г) саванны

3. Какой природной зоны нет в России?

- в) Белое и Чёрное
- а) Красное и Белое
- б) Чёрное и Жёлтое
- г) Жёлтое и Красное

2. Какие из этих морей омывают берега России?

- а) Индия б) Казахстан в) Китай г) Финляндия

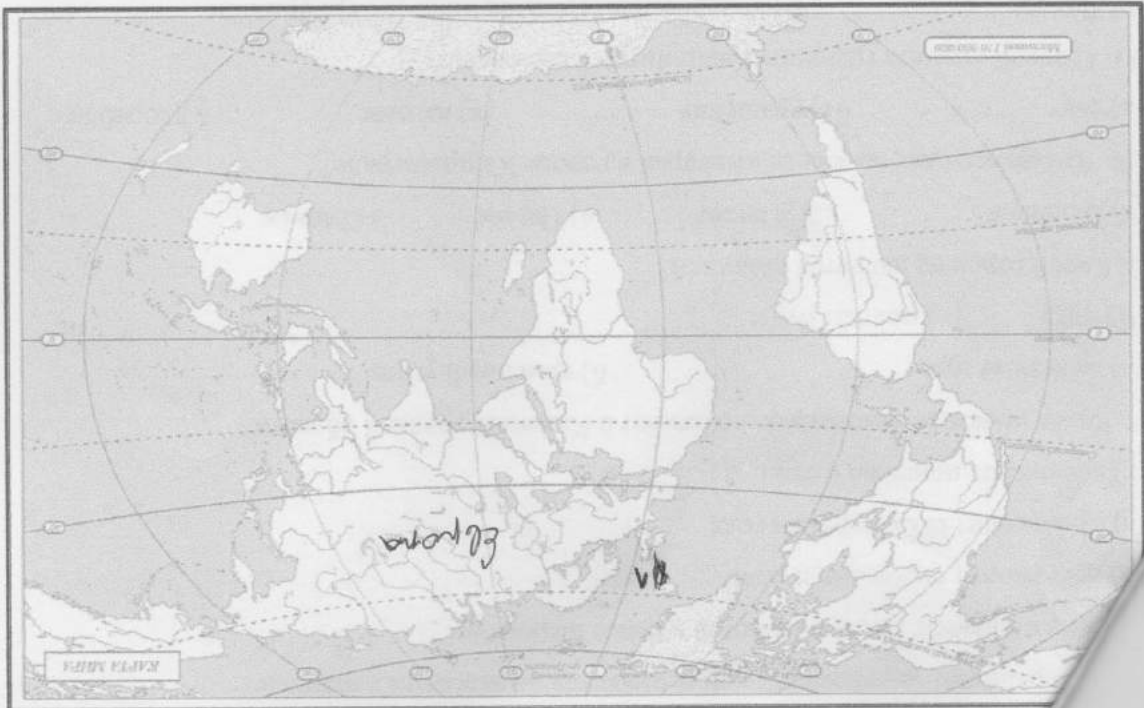
1. С какой из этих стран Россия не граничит?

Максимально 16 баллов, по 1 баллу за каждый правильный ответ.

Выберите только один правильный и внесите его в матрицу ответов.

На каждый вопрос даны четыре варианта ответов.

Тестовый тип



1	2	3	4	5	6	7	8	9	10
11	12	13	14	15	16				
9	6	2	2	7	8				
8	6	6	6	6	6				

Матрица для записи ответов

- а) железные руды
 б) каменные уголь
 в) возникают приливы и отливы
 г) происходит смена времён года
 д) происходит смена дня и ночи
8. Какое полезное ископаемое добывают в Калининградской области?
- а) торф
 б) медные руды
 в) железные руды
 г) медные руды
9. Какой город не является столицей?
- а) Вена
 б) Пекин
 в) Париж
 г) Минск
10. Что производят на заводе «Янтарь» в городе Калининграде?
- а) сыр
 б) украшения
 в) вагоны
 г) корабли
11. С какой страной граничит Калининградская область?
- а) Латвия
 б) Белоруссия
 в) Польша
 г) Германия
12. Какой океан является самым маленьким по площади?
- а) Тихий
 б) Северный Ледовитый
 в) Индийский
 г) Атлантический
13. В какой стране традиционной женской одеждой является сари?
- а) Индия
 б) Япония
 в) Бразилия
 г) Китай
14. На флаге какого государства изображён красный крест, символизирующий Солнце?
- а) Египет
 б) Индия
 в) Япония
 г) Китай
15. Какую достопримечательность можно увидеть в городе, основанном Петром Первым?
- а) памятник «Медный всадник»
 б) Собор Василия Блаженного
 в) Царь-колокол
 г) Третьяковская галерея
16. Какие животные изображены на гербе Австралийского Союза?
- а) зебра и носорог
 б) кенгуру и эму
 в) колибри и ягуар
 г) павлин и панда